



CORRECCION
GUIA DE APRENDIZAJE REMOTO NUMERO 1



COLEGIO ANGLO MAIPU
COORDINACIÓN TÉCNICA
MISS VALERIA VARGAS
AÑO ESCOLAR 2020

MATEMÁTICA 4º BÁSICO
GUÍA DE APRENDIZAJE REMOTO Nº1

Nombre: Corrección Curso: _____ Fecha: ___/___/___

I Objetivo:

1. Reconocer, comparar, operar, descomponer y escribir con palabras números hasta el 99.999.

II Instrucciones:

1. Debes realizar la guía en un lugar que te permita estar concentrado (a).
2. Puedes solicitar ayuda a un adulto cuando tengas dudas.
3. Puedes repartir el trabajo en varios días.
4. Debes realizar las actividades con letra clara y ordenada usando lápiz grafito.
5. Para realizar la guía tienes dos alternativas:
 - a) Imprimir la guía, desarrollar las actividades y luego pegar la guía en tu cuaderno de matemática o guardarla en tu carpeta de archivo.
 - b) Copiar las respuestas de las actividades en tu cuaderno de matemática para luego ser revisadas.
6. Esta guía será revisada y evaluada cuando te reintegres a clases.



COLEGIO ANGLO MAIPÚ
 COORDINACIÓN TÉCNICA
 MISS VALERIA VARGAS
 AÑO ESCOLAR 2020
IV Actividades

Recuerda
 Un número de cinco cifras está formado por decenas de millar, unidades de millar, centenas, decenas y unidades.
 1 decena de millar = 10.000 unidades > 1 DM = 10.000 U
 10.000 se lee diez mil.

1. Completa y relaciona.

1 DM = 10.000 U	→	Diez mil.	nte cenas
4 DM = 40.000 U	→	Noventa mil.	
7 DM = 70.000 U	→	Cuarenta mil.	
9 DM = 90.000 U	→	Setenta mil.	

1. E

rojo > El número mayor azul > El número menor

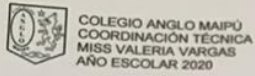
95.372	10.754	76.890
65.000	34.980	76.800
7.890	38.000	76.980

2. Escribe con cifras los números.

Diecinueve mil trescientos setenta y dos.	19.372
Treinta y ocho mil quinientos veinticinco.	38.525
Cincuenta mil setecientos ochenta y cuatro.	40.784
Ochenta y ocho mil doscientos treinta.	88.230
Noventa y tres mil seiscientos diecinueve.	93.619

3. Escribe cómo se leen.

16.432	Diez y seis mil cuatrocientos treinta y dos.
39.675	Treinta y nueve mil seiscientos setenta y cinco.
54.098	Cincuenta y cuatro mil noventa y ocho.
78.006	Setenta y ocho mil seis.
95.090	Noventa y cinco mil noventa.



COLEGIO ANGLO MAIPU
 COORDINACIÓN TÉCNICA
 MISS VALERIA VARGAS
 AÑO ESCOLAR 2020

2. Escribe el signo < o > según corresponda.

$2.347 < 21.760$	$92.870 < 98.000$	$34.056 < 34.060$
$56.978 > 35.900$	$74.650 < 75.000$	$73.200 > 73.100$
$78.090 < 85.000$	$97.000 > 93.000$	$65.342 > 65.324$

3. Ordena los números y escribe el signo correspondiente.

De menor a mayor \triangleright 23.780 89.000 73.200

Resuelve las siguientes sumas y restas:

$\begin{array}{r} \textcircled{1} 140 \\ + 279 \\ \hline 419 \end{array}$	$\begin{array}{r} \textcircled{1} \textcircled{1} 287 \\ + 498 \\ \hline 785 \end{array}$	$\begin{array}{r} \textcircled{1} 228 \\ + 749 \\ \hline 977 \end{array}$	1 <input type="checkbox"/>
$\begin{array}{r} \textcircled{6} \textcircled{17} \textcircled{10} \\ \cancel{7} \cancel{8} \cancel{0} \\ - 498 \\ \hline 282 \end{array}$	$\begin{array}{r} \textcircled{4} \textcircled{10} \\ \cancel{8} \cancel{0} 9 \\ - 179 \\ \hline 330 \end{array}$	$\begin{array}{r} \textcircled{9} \textcircled{11} \\ \cancel{8} \cancel{10} \cancel{2} \\ - 158 \\ \hline 743 \end{array}$	<input type="checkbox"/>
$\begin{array}{r} \textcircled{1} \textcircled{1} 240 \\ + 579 \\ + 125 \\ \hline 944 \end{array}$	$\begin{array}{r} \textcircled{1} 110 \\ + 209 \\ + 311 \\ \hline 630 \end{array}$	$\begin{array}{r} \textcircled{1} \textcircled{1} 272 \\ + 539 \\ + 501 \\ \hline 1.312 \end{array}$	<input type="checkbox"/>
$\begin{array}{r} \textcircled{8} \textcircled{14} \textcircled{16} \\ \cancel{8} \cancel{8} \cancel{8} \\ - 589 \\ \hline 367 \end{array}$	$\begin{array}{r} \textcircled{6} \textcircled{9} \textcircled{11} \\ \cancel{7} \cancel{10} \cancel{2} \\ - 569 \\ \hline 132 \end{array}$	$\begin{array}{r} \textcircled{4} \textcircled{9} \textcircled{10} \\ \cancel{5} \cancel{8} \cancel{8} \\ - 453 \\ \hline 047 \end{array}$	<input type="checkbox"/>
$\begin{array}{r} \textcircled{3} \textcircled{12} \\ \cancel{9} \cancel{1} \cancel{2} \\ - 709 \\ \hline 233 \end{array}$	$\begin{array}{r} \textcircled{6} \textcircled{9} \textcircled{13} \\ \cancel{7} \cancel{8} \cancel{8} \\ - 576 \\ \hline 127 \end{array}$	$\begin{array}{r} \textcircled{8} \textcircled{10} \\ \cancel{8} \cancel{8} 0 \\ - 410 \\ \hline 490 \end{array}$	<input type="checkbox"/>



COLEGIO ANGLO MAIPU
COORDINACIÓN TÉCNICA
MISS VALERIA VARGAS
AÑO ESCOLAR 2020

$$\begin{array}{r} \textcircled{1} \\ 830 \\ + 179 \\ \hline 1009 \end{array}$$

$$\begin{array}{r} \textcircled{1} \quad \textcircled{1} \\ 607 \\ + 398 \\ \hline 1005 \end{array}$$

$$\begin{array}{r} \textcircled{1} \quad \textcircled{1} \\ 227 \\ + 1849 \\ \hline 2076 \end{array}$$

$$\begin{array}{r} \textcircled{0} \quad \textcircled{16} \quad \textcircled{11} \\ \cancel{8} \quad \cancel{3} \quad \cancel{0} \\ - 98 \\ \hline 73 \end{array}$$

$$\begin{array}{r} \textcircled{6} \quad \textcircled{10} \quad \textcircled{12} \\ \cancel{6} \quad \cancel{0} \quad \cancel{7} \\ - 179 \\ \hline 533 \end{array}$$

$$\begin{array}{r} \textcircled{9} \quad \textcircled{9} \quad \textcircled{11} \\ \cancel{0} \quad \cancel{2} \quad \cancel{2} \quad \cancel{7} \\ - 158 \\ \hline 843 \end{array}$$

$$\begin{array}{r} \textcircled{1} \quad \textcircled{1} \\ 240 \\ + 725 \\ \hline 1050 \end{array}$$

$$\begin{array}{r} \textcircled{1} \\ 70 \\ + 209 \\ + 301 \\ \hline 580 \end{array}$$

$$\begin{array}{r} \textcircled{1} \\ 1272 \\ + 75 \\ + 101 \\ \hline 1448 \end{array}$$

$$\begin{array}{r} 426 \\ - 189 \\ \hline \end{array}$$

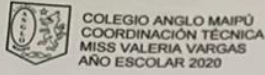
$$\begin{array}{r} \textcircled{6} \quad \textcircled{11} \quad \textcircled{11} \\ \cancel{4} \quad \cancel{2} \quad \cancel{6} \\ - 578 \\ \hline 143 \end{array}$$

$$\begin{array}{r} \textcircled{6} \quad \textcircled{9} \quad \textcircled{10} \\ \cancel{4} \quad \cancel{2} \quad \cancel{6} \\ - 462 \\ \hline 238 \end{array}$$

$$\begin{array}{r} \textcircled{8} \quad \textcircled{9} \quad \textcircled{12} \\ \cancel{8} \quad \cancel{3} \quad \cancel{0} \quad \cancel{2} \\ - 709 \\ \hline 193 \end{array}$$

$$\begin{array}{r} \textcircled{8} \quad \textcircled{9} \quad \textcircled{13} \\ \cancel{8} \quad \cancel{3} \quad \cancel{0} \quad \cancel{2} \\ - 876 \\ \hline 027 \end{array}$$

$$\begin{array}{r} \textcircled{8} \quad \textcircled{10} \\ 1800 \\ - 510 \\ \hline 1390 \end{array}$$



Resuelve los siguientes problemas usando una representación pictórica donde organices los datos que tienes. Tal como lo trabajaste con tu profesor.

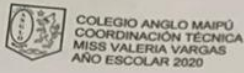
1. En una salmonera había 658 huevos, pero por un cambio de temperatura se perdieron 370.
 ¿Cuál es el mayor número de peces que puede llegar a madurar?

<p><i>Represento mi problema</i></p> <p>658 370 huevos huevos</p>	<p><i>¿Qué operación u operaciones matemáticas utilizarás?</i></p> <p>sustracción</p>
<p><i>Desarrollo la o las operaciones</i></p> $\begin{array}{r} 5 \cancel{6} 8 8 \\ - 3 7 0 \\ \hline 2 8 8 \end{array}$	<p><i>Respuesta completa</i></p> <p>288 peces.</p>

2. En una planta de celulosa trabajan 453 personas en el turno de la mañana y 348 personas en el turno de la tarde.
 ¿Cuántas personas trabajan en total en la empresa?

<p><i>Represento mi problema</i></p> <p>♂ 453 ♀ 348</p>	<p><i>¿Qué operación u operaciones matemáticas utilizarás?</i></p> <p>Adición</p>
<p><i>Desarrollo la o las operaciones</i></p> $\begin{array}{r} 1 \quad 1 \\ 4 5 3 \\ + 3 4 8 \\ \hline 8 0 1 \end{array}$	<p><i>Respuesta completa</i></p> <p>En total trabajan 801</p>

per sonas.



5. De los 953 salmones llevados al mar, 629 sobrevivieron. ¿Cuántos salmones no sobrevivieron?

Represento mi problema 953 629 ∞ ∞	¿Qué operación u operaciones matemáticas utilizarás? Sustracción
Desarrollo la o las operaciones $\begin{array}{r} 953 \\ - 629 \\ \hline 324 \end{array}$	Respuesta completa 324 salmones no sobrevivieron

6. Para plantar un terreno con pinos, se compraron 180 arbolitos en el vivero "El Retoño" y 260 en el vivero "Doña Ana". Además de plantar estos árboles, se plantaron 510 semillas de árbol. ¿Cuántos árboles tendrá el bosque si todos los árboles crecen?

Represento mi problema 180 260 510	¿Qué operación u operaciones matemáticas utilizarás? Adición
Desarrollo la o las operaciones $\begin{array}{r} 180 \\ + 260 \\ \hline 440 \\ + 510 \\ \hline 950 \end{array}$	Respuesta completa 950 árboles

LINKS DE APOYO: <https://www.youtube.com/watch?v=gZwYJ7umVWA>
<https://www.youtube.com/watch?v=8pZ7LkZvReE>



3. En la faena de un bosque forestal pequeño trabajaron 67 obreros talando con motosierra y 128 obreros trasladando los árboles a la explanada de acopio.
¿Cuántos obreros trabajaron en la faena?

Represento mi problema 128 67	¿Qué operación u operaciones matemáticas utilizarás? Adición
Desarrollo la o las operaciones $\begin{array}{r} 128 \\ + 67 \\ \hline 195 \end{array}$	Respuesta completa 195 Obreros trabajaron en la faena.

4. En una salmonera había 385 personas trabajando a las 8 de la mañana. Si a las 10 am había 429 personas, ¿Cuántas personas llegaron después de las 8 am?

Represento mi problema 385 8am 428 10am	¿Qué operación u operaciones matemáticas utilizarás? Sustracción
Desarrollo la o las operaciones $\begin{array}{r} 428 \\ - 385 \\ \hline 43 \end{array}$	Respuesta completa 43 personas llegaron después de las 8 am.